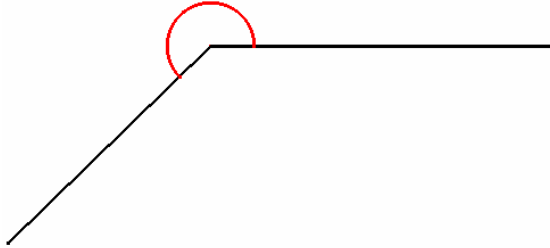


Name: _____

ADVANCED 2



- 1) Schätze zuerst die Winkel und miss sie anschließend.
Trage deine Ergebnisse in die dazugehörigen Kästchen ein.

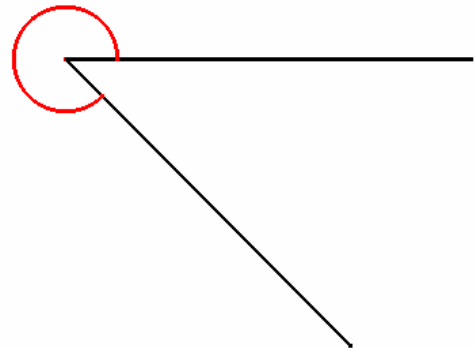


Schätzung: _____

Messung: _____

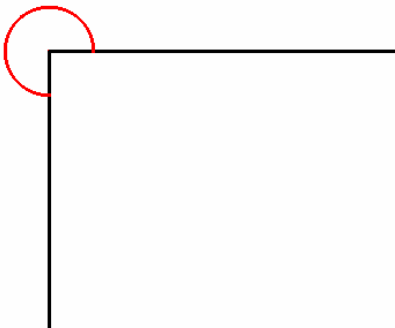
Schätzung: _____

Messung: _____



Schätzung: _____

Messung: _____



Schätzung: _____

Messung: _____

